


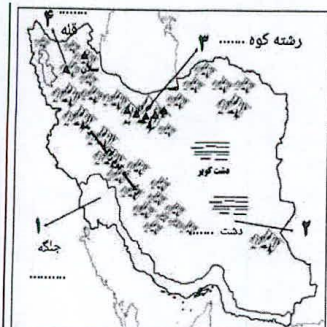


<p>ت. ۱</p>	<p>نوبت اول دی ماه ۱۴۰۱ پایه: هفتم شماره دانش آموزی: مدت زمان آزمون: ۶۰ دقیقه تاریخ امتحان: ۱۴۰۱/۱۰/۱۲</p>	<p>باسمه تعالی اداره کل آموزش و پرورش استان کرمان سازمان ملی پرورش استعداد های درخشان اداره آموزش و پرورش شهرستان رفسنجان دبیرستان دوره اول فرزنانگان سال تحصیلی ۱۴۰۱ - ۱۴۰۲</p>	<p>نام درس: مطالعات اجتماعی نام و نام خانوادگی:  نام دبیر: فاطمه مهدیزاده نام طراح: فاطمه مهدیزاده</p>
<p>۳</p>	<p>۱- این جمله بیانگر کدام یک از گزینه های زیر است؟ ((همانطور که ما حق داریم پدر و مادر معلم و... نیز حق بر ما دارند)) الف- حقوق طبیعی ب- حقوق یکسان ج- حقوق متقابل د- حقوق اجتماعی ۲- همه افراد می توانند به تنهایی زندگی کنند. ص <input type="checkbox"/> غ ۳- خانواده در حدی که دارد وسایل زندگی مرا فراهم می کند تا به خوبی رشد کنم. ۴- شکرگزاری، استفاده صحیح از نعمت ها، ۵- من در برابر چه چیز چه کسانی مسئول هستم؟ ۱ ۶- چه زمانی به یک فرد مسئولیت پذیر می گویند؟ ۰/۵ ۷- تبعه یک کشور بودن یعنی چه؟ ۰/۵</p>		<p>فصل اول</p>
<p>۳</p>	<p>۱- آقای حسینی می خواهد در انتخابات مجلس به عنوان کاندیدا ثبت نام کند. صلاحیت او باید توسط کدام نهاد تأیید شود تا او بتواند تبلیغات کند و مردم به او رای بدهند. الف- رهبر ب- مجلس خبرگان ج- شورای نگهبان د- قوه قضائیه ۲- قانون اساسی کشور ما بر اساس اصول اسلامی تدوین شده است. ص <input type="checkbox"/> غ ۳- ما تا آن جا می توانیم حق خود را اعمال کنیم که ۴- نمایندگان پس از انتخاب شدن برای شروع کار خود، در مجلس ۵- قانون چیست؟ ۰/۵ ۶- قانون و مقررات به چند دلیل به وجود آمده است (۲ مورد) ۰/۵ ۷- کار مجمع تشخیص مصلحت نظام چیست؟ ۰/۵ ۸- نمایندگان مجلس شورای اسلامی برای چه مدت و چگونه انتخاب می شوند؟ ۰/۵</p>		<p>فصل دوم</p>
<p>۳/۵</p>	<p>۱- دریافت هزینه های پزشکی مانند عمل جراحی ... مربوط به کدام نوع از بیمه ها می شود. الف - بیمه بهداشت و درمان ب- بیمه عمر ج- بیمه از کار افتادگی د- بیمه بیکاری ۲- کدام موسسه در زمان وقوع حوادث طبیعی یا جنگ ها به کمک مردم می شتابد؟ الف - کمیته امداد ب- هلال احمر ج- تامین اجتماعی د- بهزیستی ۳- خداوند همدلی و انسان دوستی را در سرشت ما انسان ها قرار داده است. ص <input type="checkbox"/> غ ۴- موسسه ای که شما را بیمه کرده است ۵- دو وظیفه بیمه مرکزی را بنویسید؟ ۰/۵ ۶- بیمه چیست؟ ۰/۵ ۷- انواع بیمه را نام ببرید؟ ۰/۵ ۸- همیاری یعنی چه؟ ۰/۵ ۹- سازمان جوانان هلال احمر چه سازمانی است؟ ۰/۵</p>		<p>فصل سوم</p>

<p>۳/۵</p>	<p>۱- کدام یک از موارد زیر به حقوق مصرف کننده ها مربوط نمی شود؟ الف- تصویب قوانین ومقررات ب- استاندارد ج- برچسب مشخصات کالا د- مصرف گرانی ۲- اسراف و ریخت وپاش گناهی بزرگ است . ص <input type="checkbox"/> غ <input type="checkbox"/> ۳- توزیع در لغت به معنی است ۴- کسی که کالا وخدمات را به منظور رفع نیازها وخواسته های خود می خرد ، ۵- عوامل تولید را نام ببرید؟ ۰/۷۵ ۶- مشاغل و فعالیت های اقتصادی در چندگروه طبقه بندی می شوند؟ ۰/۷۵ ۷- درجه صورت نشان مخصوص استاندارد روی یک کالا چاپ می شود؟ ۰/۵ ۸ - مفهوم هریک از علائم زیر را بنویسید. ۰/۵</p>  	<p>نقشه چهارم</p>
<p>۲/۵</p>	<p>۱- برای تهیه نقشه های جغرافی از کدام یک از عکس های زیر استفاده می کنند؟ الف- معمولی ب- هوایی ج- دیجیتالی د- ماهواره ای ۲- سواد جزو ویژگی های طبیعی است. ص <input type="checkbox"/> غ <input type="checkbox"/> ۳- با استفاده از می توانیم فاصله واقعی مکان ها را روی زمین محاسبه کنیم. ۴- ایران در قاره آسیا قرار دارد. ۵- نقشه چیست؟ ۰/۵ ۶- کوهپایه چیست؟ ۰/۵ ۷- دامنه شمالی و جنوبی رشته کوه البرز را باهم مقایسه کنید؟ ۰/۵</p>	<p>نقشه پنجم</p>
<p>۲/۵</p>	<p>۱- مهمترین وظیفه سازمان حفاظت از محیط زیست کدام است ؟ الف- شناسایی گونه های مختلف گیاهان ب- جلوگیری از آلودگی هوا ج- حفاظت از محیط زیست ومراقبت از زیستگاه ها د- در ناحیه معتدل خزری اختلاف دمای شب وروز زیاد است. ص <input type="checkbox"/> غ <input type="checkbox"/> ۲- میزان بارش یک ناحیه را با نمودار نشان می دهند. ۳- مطابق اصل ۵۰ قانون اساسی ، حفاظت از محیط زیست وظیفه ۴- زیستگاه را تعریف کنید؟ ۰/۵ ۵- دو مورد از مناطق حفاظت شده ایران را نام ببرید؟ ۰/۵ ۶- چرا در ناحیه گرم وشرجی سواحل جنوب ایران حالت شرجی به وجود می آید؟ ۰/۵ ۷- تلقی می گردد.</p>	<p>نقشه ششم</p>
<p>۲</p>	<p>نام محل های مشخص شده روی نقشه را بنویسید</p> 	<p>نقشه</p>
	<p>نمره با عدد: نمره با حروف:</p>	
	<p>امضاء: نام ونام خانوادگی مصحح:</p>	